

సంగ్రహణాత్మక మదింపు - III (2014 -15)

తరగతి : 3 - పరిసరాల విజ్ఞానం

విద్యార్థి పేరు :

సమయం: 2 .30 గంటలు

క్రమ సంఖ్య :

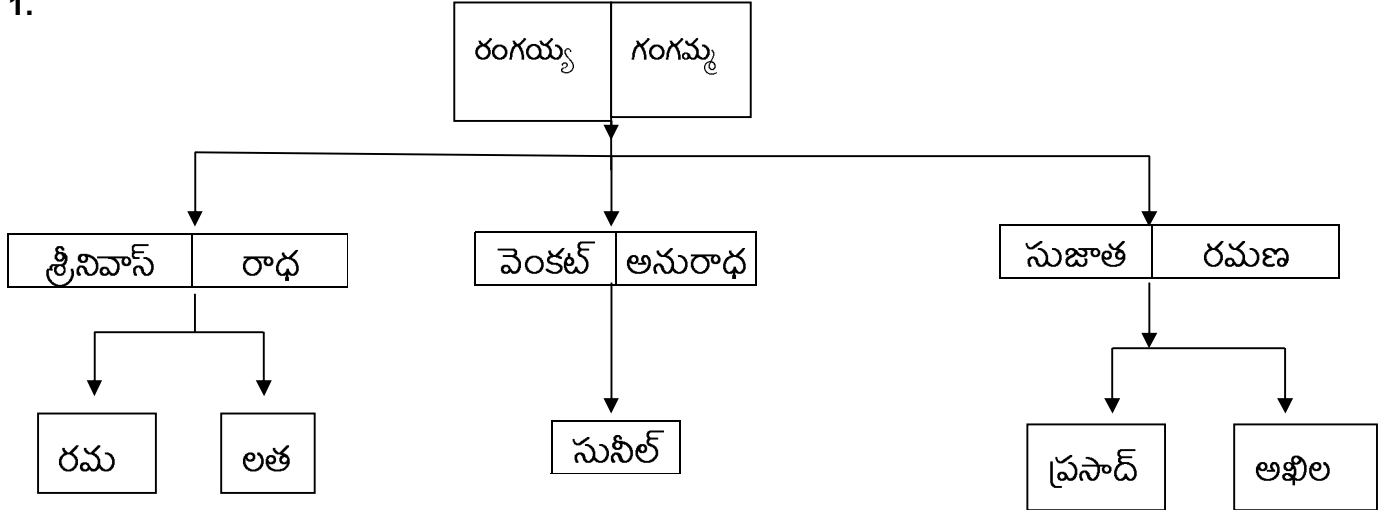
మార్కులు: 50

విద్యా ప్రమాణాలు	విషయావగాహన	ప్రశ్నించడం పరికల్పనలు	ప్రయోగాలు	సమాచార నైపుణ్యం	బొమ్మలు, పట నైపుణ్యాలు	ప్రశంస, విలువలు, జీవ నైవిద్యం	మొత్తం
ప్రశ్నల సంఖ్య	1,2,3,4,5	6,7	8	9,10	11,12	13,14	
కేటాయించిన మార్కులు	20	5	5	10	5	5	50
పొందిన మార్కులు							
గ్రేడు							

I.విషయావగాహన :

మార్కులు : 20

1.



1. గంగమ్మకు శ్రీనివాస్ ఏమౌతాడు? జ.-----
2. రంగయ్యకు అనురాధ ఏమౌతుంది? జ.-----
3. సునీల్ కు శ్రీనివాస్ ఏమౌతాడు? జ.-----
4. రంగయ్యకు అఖిల ఏమౌతుంది? జ.-----
5. లతకు సుజాత ఏమౌతుంది? జ.-----

2.. పిల్లలు బడికి వెళ్ళకుండా పనికి వెళ్ళడం వల్ల కలిగే నష్టం ఏమిటి 1X3=3

3.. బడికి వెళ్ళని పిల్లలు కనిపిస్తే మనం ఏమి చేయాలి? 1X2=2

4. ఆటలు ఎందుకు ఆడాలి? కొన్ని ఆటలు పేర్లు వ్రాయండి? 1X5=5

5. మనమెందుకు చెట్లను పెంచుకోవాలి? నీకు తెలిసిన 3 పండ్ల చెట్లు పేర్లు వ్రాయుము. 1X5=5

II. ప్రశ్నించ డం - పరిపరికల్పనలు చేయడం

5 మార్కులు

6. బట్టలు కొనడానికి లక్ష్మీ వాళ్ళ అమ్మా నాన్న తో షాపుకు వెళ్ళింది. బట్టలు షాపులో బట్టలమ్మే వానిని ఏ ఏ ప్రశ్నలు అడిగి ఉంటుంది. 3X1=3

7. బట్టలు తయారు కాక పూర్వం ఆదిమానవుడు ఏమి కట్టుకునేవాడు? 2X1=2

III. ప్రయోగాలు - క్షేత్ర పరిశోధనలు

5 మార్కులు

8. రాబర్డు గాలి పువ్వుతో ఆడుకోవడం హారిక చూసింది. తనకు రాబర్డును గాలి పువ్వులో తయారీ గూర్చి చెప్పాడు. ఆ తయారీ గూర్చి వ్రాయండి

IV సమాచార నైపుణ్యాలు - ప్రాజెక్టు పనులు

10 మార్కులు

పట్టికలోని సమాచారం ఆధారంగా క్రింది ప్రశ్నలకు సరియైన సమాధానాలు రాయండి.

క్ర. సం.	విద్యార్థి పేరు	తినే ఆహార పదార్థాలు
1	రాము	పండ్లు, అన్నం
2	కళ్యాణ్	ఆకుకూరలు, రొట్టెలు, ఐస్ క్రీం
3	రజనీ	మాంసం, గుడ్లు
4	కమల	పాలు, అన్నం, ఐస్ క్రీం
5	రాజు	అన్నం, చేపలు, పాలు

అ) ఐస్ క్రీం తినేవాళ్ళు ఎవరు? _____

ఆ) కమల తినే ఆహారపదార్థాలు ఏవి? _____

ఇ) చేపలు తిి వారు ఎవరు? _____

ఈ) పాలు తీసుకునే విద్యార్థులు ఎంత మంది? _____

ఊ) కళ్యాణ్ ఏవి ఆహార పదార్థాలను తిన్నారు? _____



9)క్రింది పట్టికలో నేలపై, నీటిలో పెరిగే మొక్కలు, ఎడారి మొక్కల పేర్లు రాయండి.

వ.సంఖ్య	నేలపై పెరిగే మొక్కలు	వ. సంఖ్య	నీటిలో పెరిగే మొక్కలు	వ.సంఖ్య	ఎడారి మొక్కలు
1		1		1	
2		2		2	
3		3		3	
4		4		4	
5		5		5	

V. బొమ్మలు గీసి భాగాలు గుర్తించడం.

5 మార్కులు

10. ఏనుగు, చేప బొమ్మ గీయండి. భాగాలు వ్రాయండి



VI. ప్రశంశ, విలువలు, జీవ సైవిద్యం

5 మార్కులు

11. మీ గ్రామంలోని వివిధ వృత్తులు పేర్లు వ్రాయండి. వారు లేకపోతే ఏ మౌతుంది. వారిని మనం ఏమి చేయాలి.

1X3=3

12. వివిధ జంతువులు లేకపోతే ఏ మౌతుంది.

1X2=2